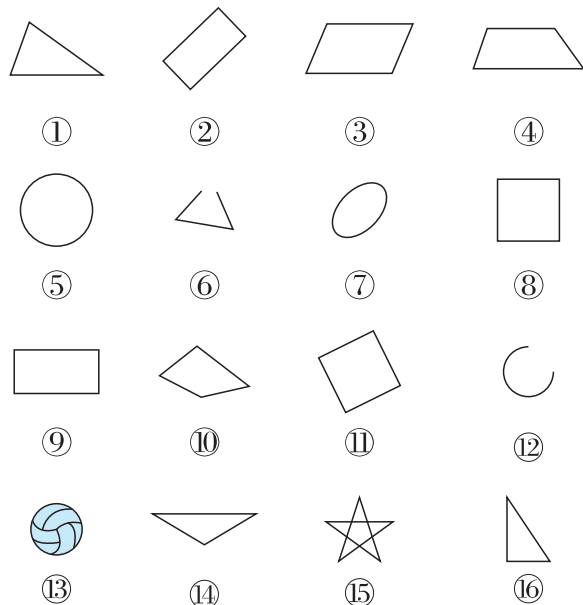


第二单元自测卷

(时间:40 分钟 满分:100 分)


一、把图形的编号填入。(16 分)





长方形	
正方形	
圆	
三角形	



二、填一填。(26 分)

1. 红领巾的面是()形, 饮料瓶盖的面是()形。

2. 两个完全一样的 , 可以拼成一个()形, 也可以拼成一个()形。

3. 摆一个三角形至少要()根小棒, 摆一个长方形至少要()根同样长的小棒。

4.  沿着虚线折一折, 折成了()形,  沿着虚线折一折, 折成了()形。

5. 
(1) 从左往右数, 第()个和第()个是 。

(2) 从右往左数第 2 个是()。

(3) 正中间的一个是()形。

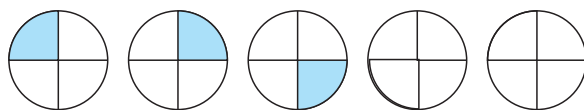
6. 找规律, 画一画。

(1) $\square \triangle \triangle \square \triangle \triangle$ _____

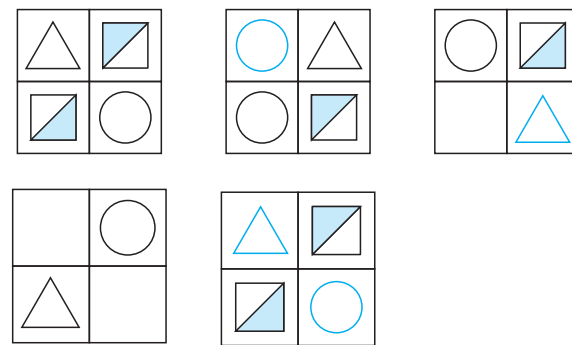
(2) $\bigcirc \triangle \bigcirc \bigcirc \triangle \bigcirc$ _____

(3) $\square \triangle \square \square \square \triangle \square \square$ _____

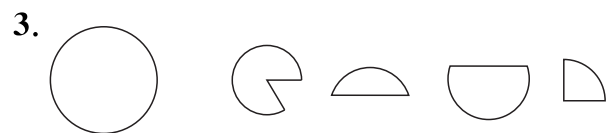
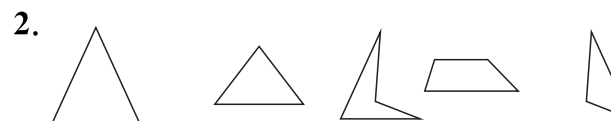
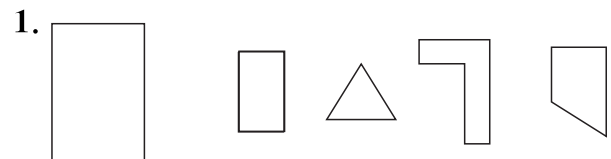
(4)



(5)




三、把每组中能拼成左边图形的两个小图形涂上你喜欢的颜色。(8 分)






四、按要求画图。(7分)





画一个正方形
和一个三角形




画一个
长方形

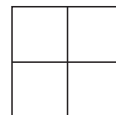
五、判一判。(对的打“√”,错的打“×”)(10分)

- 两个同样的□能拼成一个大正方形。()
- 用这个长方体能画出6个不同的长方形。()
- 在点子图中不能画出圆。()
- 用乒乓球可以画出圆。()
- 用这个正方体画出的正方形都一样。()


六、选一选。(10分)

- 摆2个至少要()根这样的小棒。

①4 ②6 ③5

- 有()个正方形。


①4 ②5 ③6

- 用一个最多可以画()个不同的长方形。

①3个 ②5个 ③6个

- 中国国旗的形状是()。

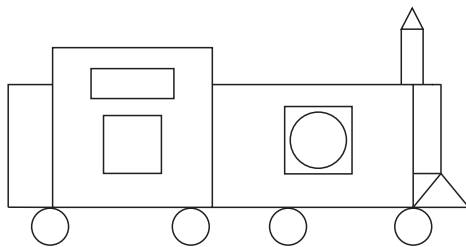
①正方形
②三角形
③长方形

- 中有()个圆。

①1个 ②3个 ③5个


七、数一数,填一填。(7分,每空1分)

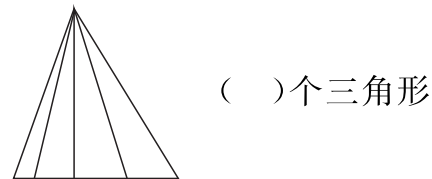
1.



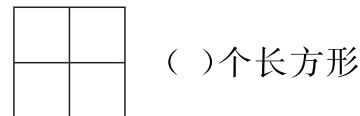
长方形有()个
正方形有()个
三角形有()个
圆有()个



-  ()个三角形



()个三角形



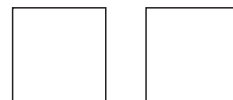

()个长方形

八、分一分,画一画。(16分)

- 在下面长方形中画出一个最大的正方形。



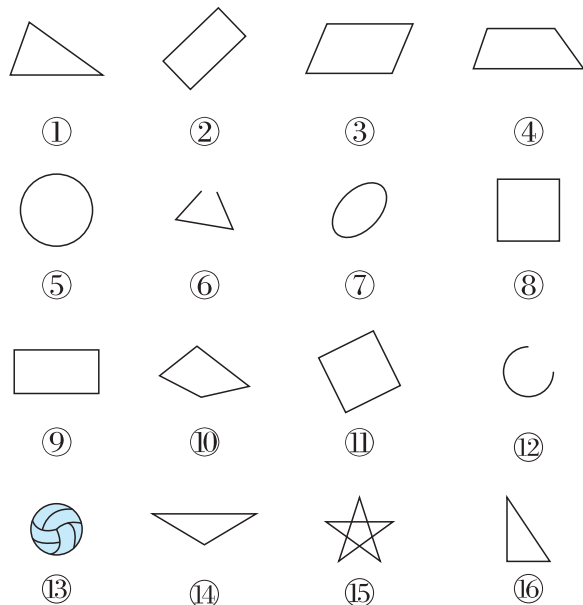
- 将一个正方形去掉一个角,你有几种方法?



第二单元自测卷

(时间:40 分钟 满分:100 分)

一、把图形的编号填入。(16 分)



长方形	②⑨
正方形	⑧⑪
圆	⑤
三角形	①④⑥

二、填一填。(26 分)

1. 红领巾的面是(三角)形, 饮料瓶盖的面是(圆)形。

2. 两个完全一样的 , 可以拼成一个(长方)形, 也可以拼成一个(三角)形。

3. 摆一个三角形至少要(3)根小棒, 摆一个长方形至少要(6)根同样长的小棒。

4. 沿着虚线折一折, 折成了(三角)形, 沿着虚线折一折, 折成了(长方)形。

5. (1)从左往右数, 第(2)个和第(5)个是 。

(2)从右往左数第 2 个是(圆)。

(3)正中间的一个是(长方)形。

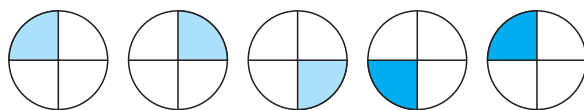
6. 找规律, 画一画。

(1) $\square \triangle \triangle \square \triangle \triangle$

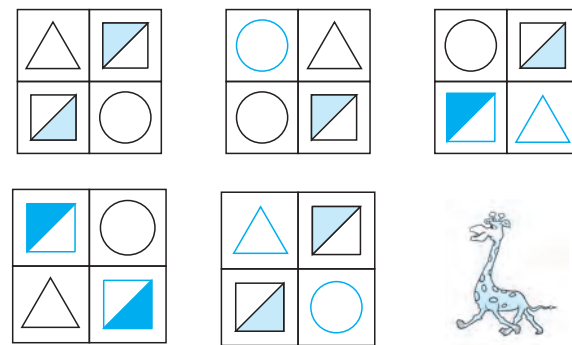
(2) $\bigcirc \triangle \bigcirc \bigcirc \triangle \bigcirc$

(3) $\square \triangle \square \square \square \triangle \square \square$

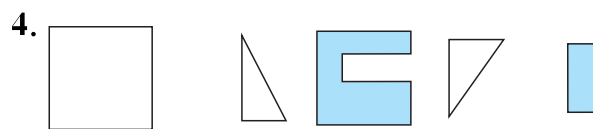
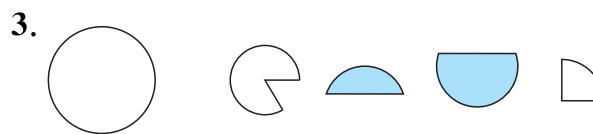
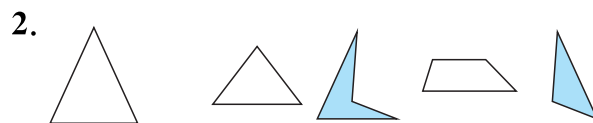
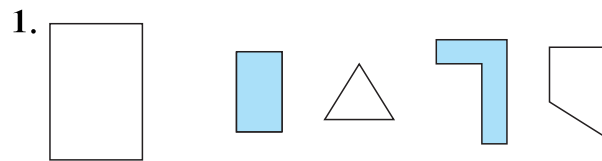
(4)



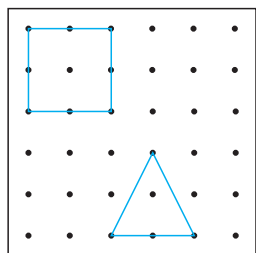
(5)



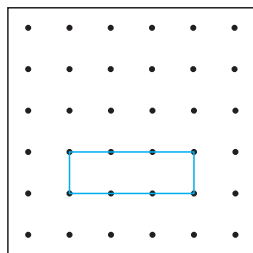
三、把每组中能拼成左边图形的两个小图形涂上你喜欢的颜色。(8 分)



四、按要求画图。(7分)





画一个正方形
和一个三角形



画一个
长方形

五、判一判。(对的打“√”,错的打“×”)(10分)

- 两个同样的□能拼成一个大正方形。(×)
- 用这个长方体能画出6个不同的长方形。(×)
- 在点子图中不能画出圆。(√)
- 用乒乓球可以画出圆。(×)
- 用这个正方体画出的正方形都一样。(√)


六、选一选。(10分)

- 摆2个至少要(③)根这样的小棒。

①4 ②6 ③5

- 有(②)个正方形。


①4 ②5 ③6

- 用一个最多可以画(①)个不同的长方形。

①3个 ②5个 ③6个

- 中国国旗的形状是(③)。

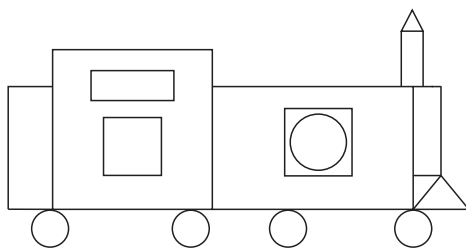
①正方形
②三角形
③长方形

- 中有(②)个圆。

①1个 ②3个 ③5个

七、数一数,填一填。(7分,每空1分)

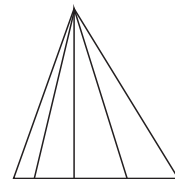
1.



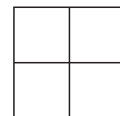
长方形有(5)个
正方形有(3)个
三角形有(3)个
圆有(5)个



-  (8)个三角形



(10)个三角形



(4)个长方形

八、分一分,画一画。(16分)

- 在下面长方形中画出一个最大的正方形。



- 将一个正方形去掉一个角,你有几种方法?

3种

